
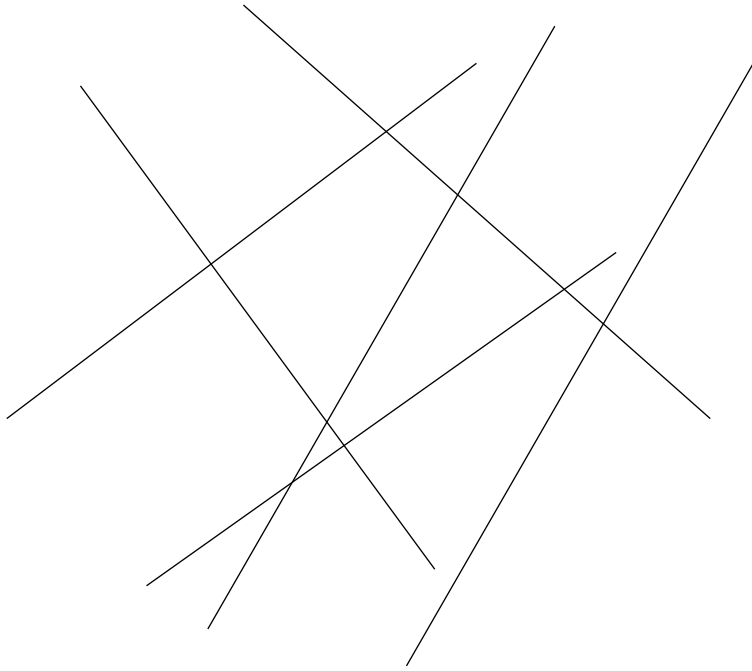
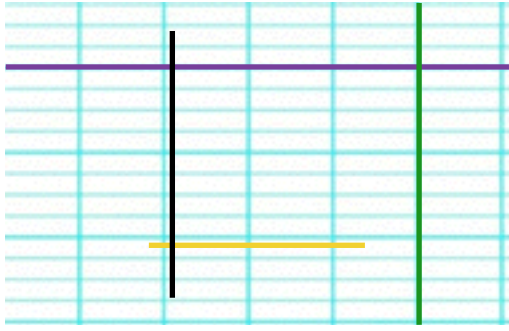



1 Colorie les droites perpendiculaires d'une même couleur



2 Réponds par oui ou non



- La droite violette est perpendiculaire à la droite jaune. \_\_\_\_\_
- La droite jaune est perpendiculaire à la droite noire. \_\_\_\_\_
- La droite verte est perpendiculaire à la droite noire. \_\_\_\_\_
- La droite verte est perpendiculaire à la droite jaune. \_\_\_\_\_



3 Trace une droite perpendiculaire à la droite ci-dessous

