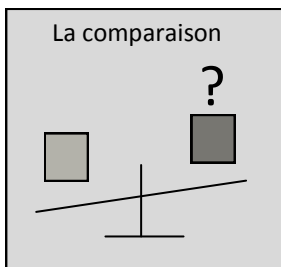
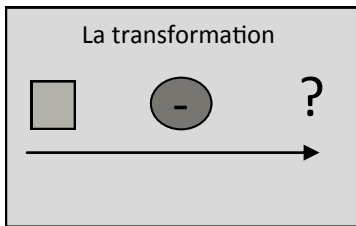
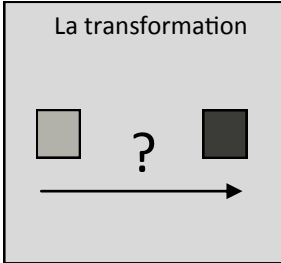




# Atelier de résolution de problèmes



Pour chaque schéma, colle les énoncés de problème correspondants :



- faire des connexions texte à texte / la soustraction -

Un bateau transporte 376 caisses. Il s'arrête à Calais et en dépose 179.

**Combien reste t-il de caisses ?**

Un bateau qui transporte 768 caisses s'arrête à Marseille. Il repart avec 1 186 caisses.

**Combien de caisses ont été chargées à Marseille ?**

Mario parcourt 98 km à vélo. C'est 15 km de plus que son frère Antoine.

**Combien Antoine a-t-il parcouru ?**

Léila doit poser 260 carreaux de carrelage. Mais elle en casse 24.

**Combien de carreaux a-t-elle déjà posé ?**

Justine mesure 145 cm. Son frère Léo fait 113 cm.

**Combien de cm Justine mesure t-elle de plus que son frère ?**

Un ascenseur est au 38ème étage. Il descend au 9ème étage.

**De combien d'étages est-il descendu ?**

Un bateau transporte 376 caisses. Il s'arrête à Calais et en dépose 179.

**Combien reste t-il de caisses ?**

Un bateau qui transporte 768 caisses s'arrête à Marseille. Il repart avec 1 186 caisses.

**Combien de caisses ont été chargées à Marseille ?**

Mario parcourt 98 km à vélo. C'est 15 km de plus que son frère Antoine.

**Combien Antoine a-t-il parcouru ?**

Léila doit poser 260 carreaux de carrelage. Mais elle en casse 24.

**Combien de carreaux a-t-elle déjà posé ?**

Justine mesure 145 cm. Son frère Léo fait 113 cm.

**Combien de cm Justine mesure t-elle de plus que son frère ?**

Un ascenseur est au 38ème étage. Il descend au 9ème étage.

**De combien d'étages est-il descendu ?**

Un bateau transporte 376 caisses. Il s'arrête à Calais et en dépose 179.

**Combien reste t-il de caisses ?**

Un bateau qui transporte 768 caisses s'arrête à Marseille. Il repart avec 1 186 caisses.

**Combien de caisses ont été chargées à Marseille ?**

Mario parcourt 98 km à vélo. C'est 15 km de plus que son frère Antoine.

**Combien Antoine a-t-il parcouru ?**

Léila doit poser 260 carreaux de carrelage. Mais elle en casse 24.

**Combien de carreaux a-t-elle déjà posé ?**

Justine mesure 145 cm. Son frère Léo fait 113 cm.

**Combien de cm Justine mesure t-elle de plus que son frère ?**

Un ascenseur est au 38ème étage. Il descend au 9ème étage.

**De combien d'étages est-il descendu ?**