



# Atelier de résolution de problèmes

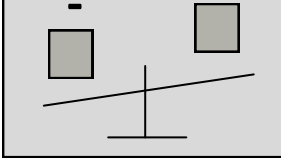


Pour chaque schéma, colle les énoncés de problème correspondants :

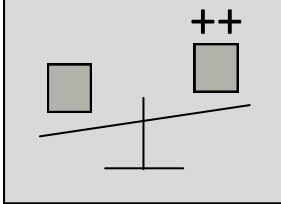


- faire des connexions texte à texte / l'histoire du problème de comparaison

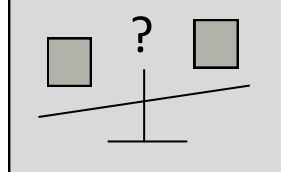
La comparaison



La comparaison



La comparaison



Pierre a 59 billes. Jules a exactement 10 billes de plus que lui.

**Combien Jules a t-il de billes ?**

Jean a gagné 65 billes. Pierre en a gagné 95.

**Combien de billes de plus a Pierre ?**

La ligne de bus B propose 41 arrêts. La ligne C en propose 17 de moins..

**Combien y at-il d'arrêts sur la ligne C ?**

Un VTT coute 189 euros à Carrefour et 225 euros à Décathlon.

**Quel est la différence de prix entre les deux magasins ?**

La twingo mesure 340 cm. La Picasso mesure précisément 100 cm de plus.

**Combien la Picasso mesure t-elle ?**

Il y avait 160 oiseaux dans un sapin et 35 oiseaux de moins dans un peuplier.

**Combien d'oiseaux y at-il dans le peuplier ?**

Pierre a 59 billes. Jules a exactement 10 billes de plus que lui.

**Combien Jules a t-il de billes ?**

Jean a gagné 65 billes. Pierre en a gagné 95.

**Combien de billes de plus a Pierre ?**

La ligne de bus B propose 41 arrêts. La ligne C en propose 17 de moins..

**Combien y at-il d'arrêts sur la ligne C ?**

Un VTT coute 189 euros à Carrefour et 225 euros à Décathlon.

**Quel est la différence de prix entre les deux magasins ?**

La twingo mesure 340 cm. La Picasso mesure précisément 100 cm de plus.

**Combien la Picasso mesure t-elle ?**

Il y avait 160 oiseaux dans un sapin et 35 oiseaux de moins dans un peuplier.

**Combien d'oiseaux y at-il dans le peuplier ?**

Pierre a 59 billes. Jules a exactement 10 billes de plus que lui.

**Combien Jules a t-il de billes ?**

Jean a gagné 65 billes. Pierre en a gagné 95.

**Combien de billes de plus a Pierre ?**

La ligne de bus B propose 41 arrêts. La ligne C en propose 17 de moins..

**Combien y at-il d'arrêts sur la ligne C ?**

Un VTT coute 189 euros à Carrefour et 225 euros à Décathlon.

**Quel est la différence de prix entre les deux magasins ?**

La twingo mesure 340 cm. La Picasso mesure précisément 100 cm de plus.

**Combien la Picasso mesure t-elle ?**

Il y avait 160 oiseaux dans un sapin et 35 oiseaux de moins dans un peuplier.

**Combien d'oiseaux y at-il dans le peuplier ?**