

Ma feuille de papier mesure 30 cm de long et 21 cm de large. Quelle est son aire ?

Je possède 3 vestes et 4 pantalons. Combien puis-je former de tenues différentes ?

Je donne 1 carré de chocolat à chaque enfant. Ma tablette a 8 rangées de 4 carrés chacune. A combien d'enfants puis-je donner 1 carré de chocolat ?

Pierre a 9 ans et son père est 4 fois plus âgé que lui. Quel âge a son père ?

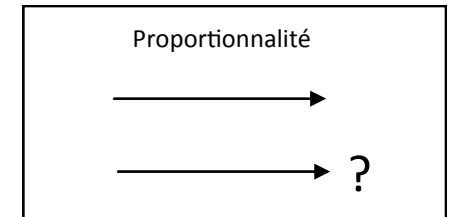
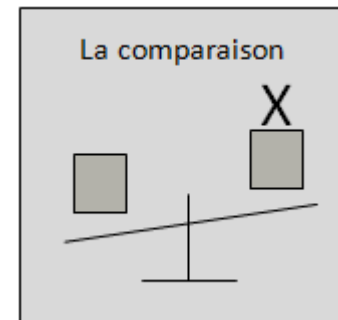
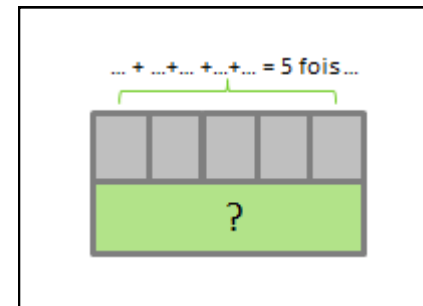
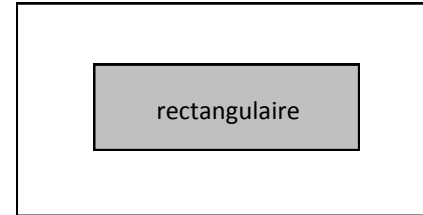
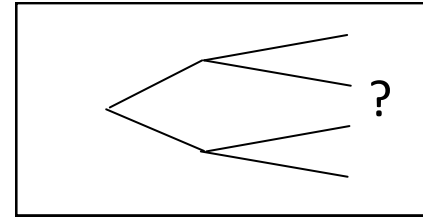
J'ai 3 paquets de 4 yaourts chacun. Combien ai-je de yaourts ?

Pierre a 25€ à dépenser pour Noël. Il veut dépenser 5€ par cadeau. Combien peut-il faire de cadeaux ?

1 cahier coûte 3€. Combien coûtent 25 cahiers ?

Vincent a acheté un VTT 300 € et des rollers. Les rollers coûtent 5 fois moins cher que le vélo. Quel est le prix des rollers ?

3 livres mesurent 36 cm. Combien mesurent 6 livres ?



quantité	prix
1
...	?

quantité	prix
1
?